

**План демонстрационного варианта диагностической
работы по истории для 10-х классов**

Используются следующие условные обозначения:

Тип задания: К – задание с кратким ответом, В – задание с выбором ответа

№	Тип задания	Контролируемые элементы содержания	Контролируемые требования к уровню подготовки обучающихся	Макс. балл за задание
1	В	Восточнославянские племена и их соседи	Знать/понимать основные факты, процессы и явления, характеризующие целостность отечественной истории	1
2	К	Образование Древнерусского государства. Первые князья	Уметь анализировать историческую информацию, представленную в разных знаковых системах (таблица)	2
3	К	Крупнейшие земли и княжества Древнерусского государства	Уметь систематизировать разнообразную историческую информацию	2
4	К	Образование Древнерусского государства. Первые князья	Знать/понимать основные факты, процессы и явления, характеризующие целостность отечественной истории	2
5	В	Монгольское завоевание	Уметь устанавливать причинно-следственные связи между явлениями, пространственные и временные рамки изучаемых исторических процессов и явлений	1
6	К	Роль церкви в общественной жизни Руси. Сергей Радонежский	Уметь анализировать историческую информацию, представленную в разных знаковых системах (текст)	2
7	В	Начало объединения русских земель. Иван Калита	Уметь устанавливать причинно-следственные связи между явлениями, пространственные и временные рамки изучаемых исторических процессов и явлений	1

8	К	Образование Российского государства. Политика московских князей	Уметь анализировать историческую информацию, представленную в разных знаковых системах (визуальный ряд)	2
9	К	Термины, использованные в отечественной истории	Знать/понимать основные факты, процессы и явления, характеризующие целостность отечественной истории	2
10	В	Расширение территории России в XVI в.: завоевания и колониционные процессы	Знать/понимать основные факты, процессы и явления, характеризующие целостность отечественной истории	1
11	В	Установление царской власти. Реформы середины XVI в. Создание органов представительной монархии	Уметь устанавливать причинно-следственные связи между явлениями, пространственные и временные рамки изучаемых исторических процессов и явлений	1
12	К	Культура России в XVI в.	Уметь анализировать историческую информацию, представленную в разных знаковых системах (визуальный ряд)	2
13	В	Смута в конце XVI – начале XVII вв.	Уметь анализировать историческую информацию, представленную в разных знаковых системах (текст)	1
14	К	Экономика России в XVII в.	Уметь анализировать историческую информацию, представленную в разных знаковых системах (карта)	1
15	К	Новые явления в экономике: начало складывания всероссийского рынка	Уметь анализировать историческую информацию, представленную в разных знаковых системах (карта)	2
16	В	Становление органов власти Российского государства	Уметь анализировать историческую информацию, представленную в разных знаковых системах (текст)	1

17	В	Россия при первых Романовых	Знать/понимать основные факты, процессы и явления, характеризующие целостность отечественной истории	1
18	К	Деятельность представителей отечественной культуры XIV–XIX вв.	Знать/понимать основные факты, процессы и явления, характеризующие целостность отечественной истории	2
19	К	Хронологическая последовательность событий отечественной истории	Знать/понимать периодизацию отечественной истории	1
20	К	Культура России в XVII в.	Уметь анализировать историческую информацию, представленную в разных знаковых системах (визуальный ряд)	2

- 1** Какие из утверждений верны?
А. Народное собрание у восточных славян имело название вече.
Б. Жрецы у восточных славян назывались волхвами.
- 1) только А
 - 2) только Б
 - 3) и А, и Б
 - 4) ни А, ни Б

- 2** Заполните таблицу «Политика князей древнерусского государства». Для этого используйте представленный ниже избыточный список: для каждой пустой ячейки, обозначенной буквой, выберите номер нужного элемента.

ИМЯ КНЯЗЯ	СОБЫТИЕ	ДАТА
(А)	Объединение Новгорода и Киева	(Б)
Ярослав Мудрый	(В)	1036 г.
(Г)	Крещение Руси	(Д)
Рюрик	(Е)	862 г

Элементы для выбора:

1. Владимир Святославич
2. 882 г.
3. Призвание варягов в Новгород
4. Олег
5. 988 г.
6. Разгром печенегов под Киевом
7. Поход на Византию
8. назначение первого русского митрополита Илариона главой русской церкви


Запишите в таблицу выбранные цифры под соответствующими буквами.

Ответ:

А	Б	В	Г	Д	Е

- 3** Сравните Галицко-Волынское княжество и Владимиро-Суздальское княжество в XII – XV вв. Выберите из перечня две сходные для них черты.
- 1) сильная княжеская власть
 - 2) развитие христианской традиции
 - 3) сильная позиция боярства
 - 4) важное место в экономической жизни играет сельское хозяйство
 - 5) становится центром объединения земель

- 4** Рассмотрите скульптурный портрет князя Ярослава Мудрого.



Какие три высказывания об Ярославе Мудром и его деятельности верны?

- 1) разгромил печенегов. Заключал династические браки своих детей с представителями монарших семей Европы
- 2) строительство Золотых ворот в Киеве;
- 3) введение уроков и погостов;
- 4) разгром Хазарского каганата;
- 5) создание письменного законодательства Древней Руси

- 5** В результате монгольского нашествия на Русскую землю
- 1) Русь была включена в состав Золотой Орды;
 - 2) Русь попала в зависимость от Золотой Орды, выражавшуюся в основном в уплате ордынским ханам дани;
 - 3) Русь отстояла свою независимость;
 - 4) коренным образом изменился характер социально-экономического развития русских земель.

6

В XIV–XV вв. начинается борьба русских земель во главе с Москвой против зависимости от Золотой Орды. Прочитайте фрагмент текста.

«Известно стало, что <...> ордынский хан Мамай собрал силу великую, всю орду безбожных татар и идёт на Русскую землю. Князем же великим был тогда прославленный и непобедимый великий Дмитрий. Он пришёл к святому Сергию, потому что великую веру имел в старца, и спросил его, прикажет ли святой ему против безбожных выступить: ведь он знал, что Сергей – муж добродетельный и даром пророческим обладает. Святой же, когда услышал об этом от великого князя, благословил его, молитвой вооружил и сказал: "Следует тебе, господин, заботиться о порученном тебе Богом славном христианском стаде. Иди против безбожных и, если Бог поможет тебе, ты победишь и невредимым в своё отечество с великой честью вернёшься"».

Какие **три** высказывания об описанном в тексте событии верны?

1) В тексте повествуется о встрече старца Сергия Радонежского с князем

Дмитрием Ивановичем Московским накануне сечи на Куликовом поле.

2) Описываемые события относятся к XIII веку.

3) Сергей благословил князя на битву и внушил ему уверенность в победе над врагом.

4) Упомянутый в тексте святой Сергей был основателем Троицкого монастыря, получил прозвание Радонежский

5) После победы над полчищами Мамайа князь Дмитрий побывал в Саввино-Сторожевском монастыре у старца и принёс в монастырь дары.

Ответ: _____.

7

В процессе объединения русских земель в XIV–XV вв

1) усилились княжеские междоусобицы

2) местные князья получают право чеканить собственную монету

3) происходит свёртывание торговой жизни, ремёсел, запустение ранее возделываемых земель

4) главным центром собирания русских земель становится Москва

8

Рассмотрите изображение почтовой марки, выпущенной в память о князе Иване Васильевиче III (1462—1505 гг.).



Какие **три** высказывания об изображённом на марке князе и событиях его правления верны?

1) На марке изображена сцена венчания государя Московского с племянницей последнего императора Византии Зоей (Софьей) Палеолог.

2) Иван Васильевич первым из московских князей принял титул Государя Всея Руси.

3) Рисунок на марке представляет князя, направляющегося со своими дружинниками на переговоры в польское королевство

4) Изображенные на марке шатер и костры символизируют стояние московского войска под предводительством князя на реке Угре.

5) В правление князя был созван первый Земский собор

Ответ: _____.

- 9 Установите соответствие между историческими понятиями (терминами) и их определениями: для каждой позиции из первого столбца подберите соответствующую позицию из второго столбца, обозначенную цифрой

ПОНЯТИЯ

- А) поместье
- Б) вече
- В) Боярская дума
- Г) барщина

ОПРЕДЕЛЕНИЯ

- 1) народное собрание
- 2) земельное владение при условии несения службы
- 3) земельное владение, которое безусловно передавалось по наследству
- 4) высший совещательный орган при царе (великом князе)
- 5) труд зависимых крестьян в хозяйстве землевладельца

Запишите в таблицу выбранные цифры под соответствующими буквами.

А	Б	В	Г

- 10 Какие из утверждений верны?
 Восточная политика царя Ивана Васильевича включала в себя
- А. завоевание Западной Сибири и Поволжья
 - Б. войну с Османской империей и разгром Крымского ханства
- 1) только А
 - 2) только Б
 - 3) и А, и Б
 - 4) ни А, ни Б

- 11 В период проведения реформ Избранной радой (1547–1560 гг.)
- 1) проведены губная и земская реформы местного управления
 - 2) в стране была установлена абсолютная монархия, прекращен созыв земских соборов

- 3) укрепилось княжеско-боярское вотчинное землевладение, расширились права боярства
- 4) завершилась междоусобная война, разорвавшая население

- 12 Рассмотрите изображение печатной книги «Апостол».



Какие **три** высказывания о книге «Апостол» верны?

- 1) Создателем книги был Андрей Чохов.
- 2) Это первая печатная книга, изданная Иваном Федоровым и Петром Мстиславцем.
- 3) Книга была напечатана в 1664 г.
- 4) С книги «Апостол» начинается история книгопечатания на Руси.
- 5) В книге «Апостол» повествуется о деяниях учеников Христа.

Ответ: _____.

13

Прочитайте текст.

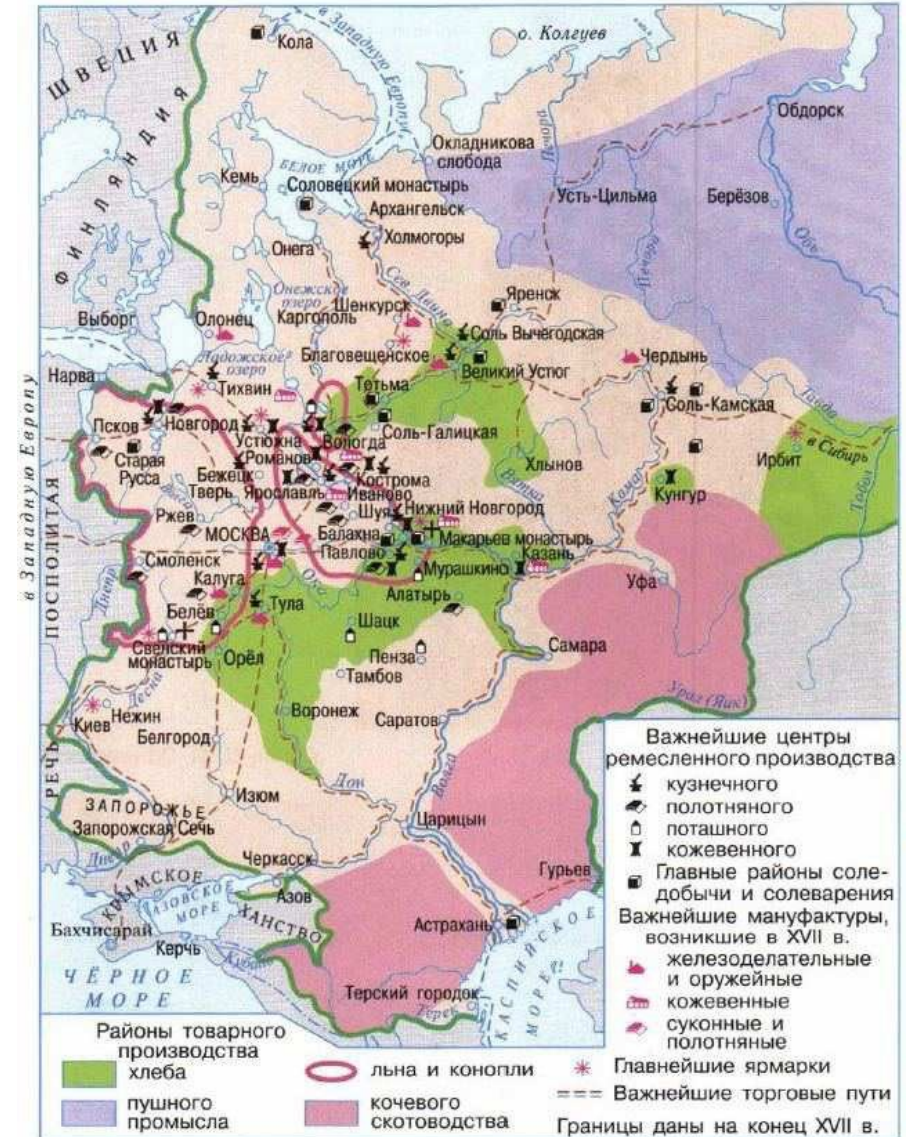
«... Мы бояре... приговорили ... на том... чтоб король Жигимонт пожаловал, дал на Владимирское и Московское и все великие государства российского царства сына своего... королевича.

А будучи государю королевичу на российском государстве, церкви божия... чтити и украшати во всем по прежнему обычаю и всем православным христианам быть в православной христианской вере греческого закона по-прежнему, и римские веры и иных разных вер костёлов и молебных храмов в Московском государстве не ставити...»

О каком периоде в истории России говорится в тексте?

- 1) Смутном времени
- 2) опричнине
- 3) бироновщине
- 4) просвещенном абсолютизме

Рассмотрите историческую карту и выполните задания 14 и



14

В XVII в. центром торговли России со странами Востока был город-порт. Запишите в ответе название этого города-порта, указанного на карте.

Ответ: _____.

15

Какие **три** утверждения об указанных на карте экономических районах и центрах производства верны?

- 1) Макарьевская ярмарка – крупнейшая ярмарка возникла в 1620-е годы у стен Свято-Троицкого Макарьевско-Желтоводского монастыря.
- 2) Районами кочевого скотоводства были Тихвин и Каргополь.
- 3) Пушные промыслы активно развивались в Западной и Восточной Сибири.
- 4) В районы производства льна и конопли, выработки полотна и холстов входили Старая Русса и Смоленск.
- 5) Железоделательное производство развивалось в Алатыре, Иванове и Ярославле.

Ответ: _____.

16

Прочитайте текст.

«Порядок выборов был следующим. Из Разрядного приказа воеводы получали предписание о выборах, которое зачитывалось жителям городов и крестьянам. После этого составлялись сословные выборные списки, хотя число представителей не фиксировалось. Избиратели давали своим выборным наказы. Бывали случаи, когда при срочном созыве собора представители приглашались царём или должностными лицами на местах.

В _____ значительную роль играли дворяне и особенно торговые люди, так как от их участия в этом государственном органе зависело решение денежных проблем для обеспечения средствами государственных нужд, прежде всего оборонных и военных. Таким образом, в _____ нашла проявление политика компромисса между различными слоями господствующего класса».

Название какого государственного органа пропущено в тексте?

- 1) Земский собор
- 2) Сенат
- 3) Боярская Дума
- 4) Приказ тайных дел

17

В России в царствование Алексея Михайловича перестали созываться Земские соборы, т. к.

- 1) были решены основные вопросы внешней политики
- 2) это решение было принято Земским собором
- 3) возросло значение Боярской думы
- 4) формировался абсолютизм

18

Рассмотрите портрет боярина Артамона Сергеевича Матвеева



Какие **три** высказывания об этом человеке и его деятельности верны?

- 1) В 1672 году влиятельный боярин Матвеев инициировал создание Кремлевского театра в палатах Потешного дворца.
- 2) Боярин Матвеев является создателем в России первых полков иноземного строя.
- 3) По инициативе Артамона Сергеевича были организованы почтовые подставы и почтовая служба на всей территории страны.
- 4) В 1654 году Артамон Сергеевич Матвеев принимал участие в Переяславской раде.
- 5) Боярин А.С. Матвеев занимал пост главы Посольского приказа в 1671– 1676 гг., был инициатором заключения договора с армянскими купцами о торговле шёлком.

Ответ: _____.

19

Расположите в хронологической последовательности события истории России X–XVII вв., обозначенные буквами:


- А. Соборное уложение Алексея Михайловича
- Б. учреждение опричнины
- В. Куликовская битва

Ответ: _____.

20

Рассмотрите две иллюстрации, обозначенные буквами.

А



Б



Установите соответствие между памятником архитектуры и временем его создания:

- 1) XI в.
- 2) XVII в.
- 3) XVI в.

Запишите в таблицу выбранные цифры под буквами, которыми обозначены иллюстрации.

Ответ	А	Б

Ответы на задания демонстрационно варианта

№	Ответ
1	3
2	426153
3	24*
4	125*
5	2
6	134
7	4
8	124*
9	2145
10	1
11	1
12	245*
13	1
14	Астрахань
15	134*
16	1
17	4
18	145*
19	ВБА
20	13

*Порядок следования цифр в ответе может быть любым.